



MINISTÉRIO DA EDUCAÇÃO
UNIVERSIDADE FEDERAL DE PELOTAS - CGIC
Concurso Público (Aplicação: 10/07/2011)
Cargo: Auxiliar em Administração C-101

LEIA ATENTAMENTE AS SEGUINTE INSTRUÇÕES:

- Verifique, nos espaços devidos do CARTÃO-RESPOSTA, se o número de controle é o mesmo que está ao lado do seu nome na folha de chamada. Caso o número de controle não corresponda ao que está nessa folha, comunique imediatamente ao fiscal de prova. Não se esqueça de assinar seu nome no primeiro retângulo.
- Marque as respostas das questões no CARTÃO-RASCUNHO, a fim de transcrevê-las, com caneta esferográfica preta ou azul, de ponta grossa, posteriormente, no CARTÃO-RESPOSTA.
- Não pergunte nada ao fiscal, pois todas as instruções estão na prova. Lembre-se de que uma leitura competente é requisito essencial para a realização da prova.
- Não rasure, não amasse nem dobre o CARTÃO-RESPOSTA, para que ele não seja rejeitado pela leitora.

Leia, com atenção, o texto abaixo e responda às questões de 01 a 10.

“Pega e lê”

Credita-se a Santo Agostinho, um dos sábios da Igreja Católica, a descoberta de que se podia ler sem enunciar as palavras. Até então, os textos eram murmurados, assim como fazem as crianças recém-alfabetizadas. Autor do que pode ser considerado uma das primeiras autobiografias, *Confissões*, ele passava por uma das inúmeras crises existenciais que o acometeram durante a juventude quando ouviu uma voz interior que lhe dizia: “Pega e lê”. E ele leu, então, as Cartas de São Paulo que constam do Novo Testamento. Mais de 1 600 anos depois que Santo Agostinho “pegou e leu”, milhões de pessoas, apesar dos periódicos atestados de óbito conferidos à literatura e a tudo a ela relacionado, continuam tendo na leitura uma fonte de prazer intelectual e estético, além de um caminho mais seguro para o progresso pessoal e o aperfeiçoamento profissional. Em pleno fulgor da era digital, ler continua essencial e divertido.



veja | 18 DE MAIO, 2011 | 15 [adapt.]

01

O objetivo principal do texto é

- (a) narrar a vida e os hábitos de um dos santos da Igreja Católica.
- (b) mostrar que a leitura, apesar dos alçozes da literatura e de tudo a ela relacionado, continua oportunizando prazer e conhecimento.
- (c) referendar as projeções pessimistas sobre a figura do leitor entre os brasileiros.
- (d) comparar a técnica de leitura usada antigamente com os métodos de alfabetização atuais.
- (e) comentar o baixo crescimento do mercado editorial nos dias de hoje.

02

Em **Até então, os textos eram murmurados, assim como fazem as crianças recém-alfabetizadas.** (linhas 04 e 05), há uma

- (a) generalização.
- (b) oposição.
- (c) explicação.
- (d) conclusão.
- (e) comparação.

03

Quando o texto diz que **...ele passava por uma das inúmeras crises existenciais...** (linhas 07 e 08), instaura-se o pressuposto de que

- (a) as crises perduraram por todo a sua vida.
- (b) ele já havia passado por outros conflitos.
- (c) o tormento e a angústia eram causados pela leitura.
- (d) a voz interior era a origem das crises existenciais.
- (e) as tensões acabaram após ouvir a voz interior.

04

A expressão ... **periódicos atestados de óbito conferidos à literatura e a tudo a ela relacionado...** (linhas 14 e 15) quer dizer que

- (a) a literatura adotara a morte como tema principal.
- (b) tudo que dizia respeito à linguagem era menosprezado.
- (c) não havia mais interesse em assuntos sobre a morte.
- (d) havia sido decretada a morte da literatura.
- (e) os livros estavam sendo substituídos pela TV.

05

Se mudássemos a pessoa do verbo em **“Pega e lê”** para a terceira do singular, teríamos

- (a) “Pegue e leia”.
- (b) “Pegai e lede”.
- (c) “Peguem e leiam”.
- (d) “Peguemos e leiamos”.
- (e) “Pegue e lede.”

06

As expressões **Até então...** (linha 04), ... **durante a juventude...** (linha 09) e **Mais de 1600 anos depois...** (linha 12) expressam uma relação de

- (a) temporalidade.
- (b) adversidade.
- (c) causalidade.
- (d) conformidade.
- (e) superioridade.

07

Em **autobiografia**, o elemento **auto** tem o mesmo significado que em

- (a) autorama.
- (b) autoritário.
- (c) autotransformação.
- (d) autocarga.
- (e) autochoque.

08

Na expressão **Em pleno fulgor da era digital.....** (linha 19), **fulgor** poderia ser substituído, sem alteração de sentido, por

- (a) torpor.
- (b) declínio.
- (c) esplendor.
- (d) conflito.
- (e) confronto.

09

Das afirmações abaixo,

- I) Em ... **ele passava por uma das inúmeras crises que o acometeram durante a juventude...** (linhas 07, 08 e 09), os elementos sublinhados remetem a **Santo Agostinho**.
- II) Na linha 17, **além de** tem um valor aditivo.
- III) No período **E ele leu, então, as Cartas de São Paulo que constam do Novo Testamento.** (linhas 10, 11 e 12), o elemento sublinhado refere-se a **São Paulo**.

- (a) apenas a I e a III estão corretas.
- (b) apenas a I está correta.
- (c) apenas a II e a III estão corretas.
- (d) apenas a II está correta.
- (e) apenas a I e a II estão corretas.

10

O único período que, se estivesse inserido no texto, revelaria incoerência com o foco dado ao assunto, é

- (a) Este texto é uma reportagem que mostra o avanço do mercado editorial no Brasil.
- (b) Nunca é tarde para começar a ler e aprimorar-se culturalmente.
- (c) Nada substitui o prazer quase carnal de colocar um livro nas mãos, virar suas páginas e sentir seu cheiro.
- (d) Várias vezes, durante o último século, previu-se a morte dos livros e do hábito de ler.
- (e) Ler é indispensável para aqueles que querem se expressar bem.

As questões de 11 a 15 dizem respeito às tiras humorísticas abaixo:

Tira 01



Tira 02



Tira 03



Tira 04



II

As tiras humorísticas e o texto “Pega e lê” apresentam o mesmo tema, ou seja,

- (a) denunciam o alto custo do livro.
- (b) tratam da valorização do livro e do hábito de leitura.
- (c) demonstram como o livro ficou desprestigiado na era digital.
- (d) narram a história de um leitor.
- (e) atribuem à leitura a tendência à alienação.

12

Se fôssemos atribuir um título à tira 02, seria

- (a) As crianças devem ser castigadas.
- (b) O poder do castigo.
- (c) A leitura liberta.
- (d) A autoridade dos pais.
- (e) Quem ama, ensina.

13

Na mesma tira 02, aparece um caso de mudança de tratamento (admissível na oralidade). Para manter o mesmo tratamento, bastaria

- (a) flexionar **aprender** por **aprenderes**.
- (b) omitir a palavra **aqui**.
- (c) substituir **ficar** por **permanecer**.
- (d) trocar o ponto de exclamação pelo ponto final.
- (e) substituir o **se** pelo **te**.

14

A expressão que sintetiza a mensagem da tira 04 é

- (a) uma andorinha só não faz verão.
- (b) dar asas à imaginação.
- (c) quem conta um conto aumenta um ponto.
- (d) o pior cego é aquele que não quer ver.
- (e) o silêncio vale mais que mil palavras.

15

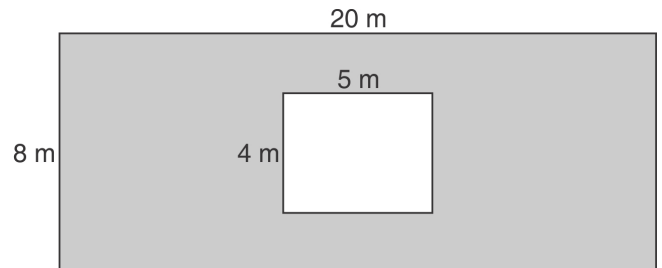
Em todas as tiras aparece a mesma conotação, ou seja,

- (a) o hábito da leitura evita que a criança fique muito tempo em frente à TV.
- (b) através da leitura pode-se adquirir um vocabulário mais preciso e refinado.
- (c) o hábito de ler é fundamental para a aquisição de conhecimento.
- (d) a leitura transporta o leitor para outras realidades.
- (e) há uma conexão inequívoca entre a leitura e o sucesso profissional.

MATEMÁTICA

16

Uma parede retangular de alvenaria tem uma janela de alumínio medindo $4m$ de altura por $5m$ de comprimento, como é mostrado na figura abaixo. **Se com uma lata de tinta X conseguimos pintar $20m^2$, para pintar a parte de alvenaria serão necessárias**



- (a) 7 latas.
- (b) 6 latas.
- (c) 5 latas.
- (d) 4 latas.
- (e) 3 latas.

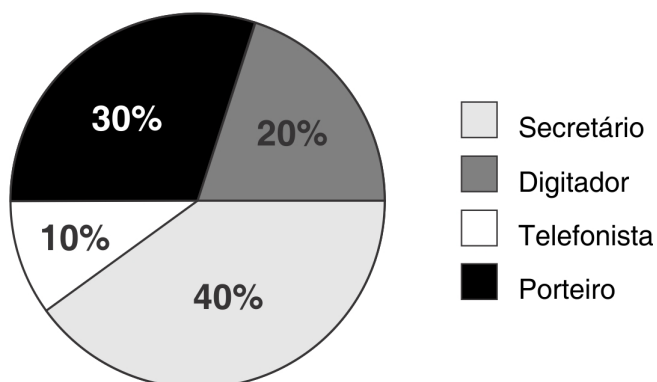
17

Um motorista tem o compromisso de fazer, diariamente, 15 viagens, de $15km$ cada uma, para uma empresa de transporte escolar. Mas, num determinado dia, ele percorreu apenas $75km$ para essa empresa. **Nessas condições, ele deixou de fazer, para essa empresa, nesse dia,**

- (a) 15 viagens.
- (b) 5 viagens.
- (c) 12 viagens.
- (d) 7,5 viagens.
- (e) 10 viagens.

18

O gráfico abaixo mostra a distribuição (em porcentagem) do total de 120 inscritos a 4 cargos de um concurso público.



Nessas condições, o número de inscritos para o cargo de secretário excede ao número de inscritos para o cargo de digitador em

- (a) 30.
- (b) 24.
- (c) 48.
- (d) 21.
- (e) 60.

19

Um comerciante fez uma aplicação financeira, durante 2 meses, de R\$ 10 000,00 a uma taxa de 2% ao mês, no sistema de juros compostos. **Nessas condições, sem efetuar saques ou depósitos junto a essa aplicação, e considerando que não haverá descontos, ao final do período considerado o comerciante disporá, por conta dessa aplicação, do total de**

- (a) R\$ 10 200,00.
- (b) R\$ 10 400,00.
- (c) R\$ 10 202,00.
- (d) R\$ 10 404,00.
- (e) R\$ 10 500,00.

20

No sistema de juros simples, o tempo em que um capital de R\$ 10 000,00, aplicado a uma taxa de 10% ao ano, renderá R\$ 3 000,00 é de

- (a) 3 meses.
- (b) 30 meses.
- (c) 3 anos.
- (d) 2 anos.
- (e) 20 meses.

21

A tabela a seguir mostra a quantidade de pacotes (idênticos) de papel utilizada numa secretaria de uma repartição pública.

Mês	Número de pacotes
Janeiro	6
Fevereiro	4
Março	7
Abril	6
Maior	7

Se cada pacote desse papel pesa 3,5kg, o peso médio de papel que essa secretaria consumiu por mês, durante os cinco meses a que se refere a tabela, foi de

- (a) 18kg.
- (b) 14kg.
- (c) 24kg.
- (d) 25kg.
- (e) 21kg.

22

Um curso tem o total de 20 turmas de alunos, sendo 8 turmas com 40 alunos cada uma, 7 turmas com 45 alunos cada uma e 5 turmas com 33 alunos cada uma.

Nessas condições, a média do número de alunos por turma, nesse curso, é de

- (a) 40 alunos.
- (b) 45 alunos.
- (c) 33 alunos.
- (d) 59 alunos.
- (e) 35 alunos.

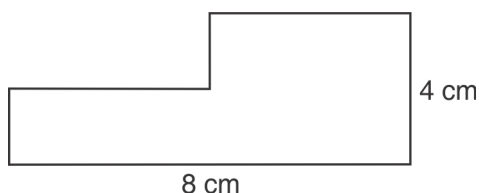
23

O valor da expressão numérica $2^3 + 2 \times \sqrt{4} - 3 \times (2^2 - \sqrt{9})$ é

- (a) 12.
- (b) 15.
- (c) 6.
- (d) 9.
- (e) 10.

24

O perímetro da figura abaixo é de



- (a) 20cm .
- (b) 22cm .
- (c) 18cm .
- (d) 26cm .
- (e) 24cm .

25

Diego resolveu 30 problemas e acertou 21, enquanto Gabriel resolveu 40 problemas e acertou 32. **Dos dois, o que obteve melhor desempenho, considerando a razão entre o número de acertos e o número de problemas resolvidos, foi**

- (a) Diego, com 70% de acertos.
- (b) Gabriel, com 80% de acertos.
- (c) Gabriel, com 70% de acertos.
- (d) Diego, com 80% de acertos.
- (e) Gabriel, com 85% de acertos.

26

Em um clube, $\frac{4}{13}$ dos sócios são do sexo masculino. **Se o total de sócios é 2938, então o número de sócios de sexo feminino é**

- (a) 904.
- (b) 1356.
- (c) 2034.
- (d) 1582.
- (e) 1808.

27

Um número A está para outro número B , na mesma proporção que 3 está para 5. **Nessas condições, a razão entre $2A$ e $3B$ é**

- (a) 2:3.
- (b) 5:3.
- (c) 3:5.
- (d) 1:4.
- (e) 2:5.

28

Em 6 horas, 15 caminhões, com a mesma capacidade de carga e funcionando continuamente com capacidade de carga completa, descarregam $150m^3$ de areia. **Nessas condições, são necessários para descarregar $90 m^3$ de areia, em 3 horas,**

- (a) 18 caminhões.
- (b) 12 caminhões.
- (c) 15 caminhões.
- (d) 21 caminhões.
- (e) 24 caminhões.

29

Uma pilha da marca A tem duração prevista de 14500 segundos em perfeitas condições de funcionamento. **A quantidade de horas completas que uma pilha, nessas condições, dura é**

- (a) 4 horas.
- (b) 5 horas.
- (c) 6 horas.
- (d) 7 horas.
- (e) 8 horas.

30

O volume de um cubo, no qual cada face tem $0,04m^2$ de área, é de

- (a) $0,06m^3$.
- (b) $0,9m^3$.
- (c) $0,008m^3$.
- (d) $2,4m^3$.
- (e) $10m^3$.

31

No Art. 37. da Constituição da República Federativa do Brasil de 1988, a administração pública direta e indireta de qualquer dos Poderes da União, dos Estados, do Distrito Federal e dos Municípios obedecerá aos princípios de legalidade, impessoalidade, moralidade, publicidade e eficiência e, também, ao seguinte:

- (a) A lei reservará percentual dos cargos e empregos públicos para as pessoas portadoras de deficiência e definirá os critérios de sua admissão.
- (b) Os cargos, empregos e funções públicas são acessíveis somente aos brasileiros que preencham os requisitos estabelecidos em lei.
- (c) O prazo de validade do concurso público será de dois anos, não prorrogável, por igual período.
- (d) A lei estabelecerá os casos de contratação por tempo indeterminado para atender a necessidade temporária de excepcional interesse público.
- (e) Não é garantido ao servidor público civil o direito à livre associação sindical.

32

Segundo o Art. 41, da Constituição da República Federativa do Brasil de 1988, são estáveis após três anos de efetivo exercício os servidores nomeados para cargo de provimento efetivo em virtude de concurso público. **Com relação ao parágrafo primeiro do Art. 41, é correto afirmar que o servidor público estável só perderá o cargo em virtude de**

- (a) sentença judicial transitada em julgado; mediante processo civil em que não lhe seja assegurada ampla defesa; e mediante procedimento de avaliação eventual de desempenho, na forma de lei complementar, assegurada ampla defesa.
- (b) sentença judicial transitada em julgado; mediante processo penal em que lhe seja assegurada ampla defesa; e mediante procedimento de avaliação periódica de desempenho, na forma de lei complementar, assegurada ampla defesa.
- (c) sentença judicial transitada em julgado; mediante processo penal em que não lhe seja assegurada ampla defesa; e mediante procedimento de avaliação eventual de desempenho, na forma de lei complementar, assegurada ampla defesa.

- (d) sentença judicial transitada em julgado; mediante processo administrativo em que lhe seja assegurada ampla defesa; e mediante procedimento de avaliação periódica de desempenho, na forma de lei complementar, assegurada ampla defesa.
- (e) sentença judicial transitada em julgado; mediante processo administrativo em que não lhe seja assegurada ampla defesa; e mediante procedimento de avaliação periódica de desempenho, na forma de lei complementar, assegurada ampla defesa.

33

De acordo com o Art. 5º, da Lei Federal nº 8.112, de 11 de dezembro de 1990, são requisitos básicos para investidura em cargo público:

- (a) a idade mínima de vinte e um anos e o gozo dos direitos políticos.
- (b) a idade mínima de dezoito anos e qualquer nível de escolaridade.
- (c) a idade mínima de vinte e um anos e a nacionalidade brasileira.
- (d) a idade mínima de dezesseis anos e o gozo dos direitos políticos.
- (e) a idade mínima de dezoito anos e o gozo dos direitos políticos.

34

Com base na Lei Federal nº 8.112, de 11 de dezembro de 1990, em seus artigos 8º e 33º, das alternativas abaixo a que apresenta **DUAS** formas de **PROVIMENTO** de cargo público e **DUAS** decorrências de **VACÂNCIA** do cargo público é

- (a) readaptação, reversão, reintegração e demissão.
- (b) aproveitamento, falecimento, exoneração e aposentadoria.
- (c) recondução, nomeação, reintegração e falecimento.
- (d) nomeação, reversão, reintegração e exoneração.
- (e) nomeação, promoção, exoneração e demissão.

35

Conforme a Lei Federal nº 8.112, de 11 de dezembro de 1990, o servidor nomeado, ao entrar em exercício, fica sujeito a estágio probatório por um determinado período de tempo, durante o qual sua aptidão e capacidade são objeto de avaliação para o desempenho do cargo, observados os seguintes fatores:

- (a) assiduidade, disciplina, capacidade de iniciativa, responsabilidade e liderança.
- (b) assiduidade, disciplina, capacidade de iniciativa, responsabilidade e espírito de equipe.
- (c) assiduidade, disciplina, capacidade de iniciativa, produtividade e responsabilidade.
- (d) assiduidade, capacidade de iniciativa, produtividade, liderança e cooperação.
- (e) assiduidade, capacidade de iniciativa, produtividade, responsabilidade e liderança.

CONHECIMENTOS DE INFORMÁTICA

36

Em um documento do editor de texto dos pacotes OpenOffice, BrOffice e LibreOffice, o



botão apresentando imagem é responsável pela função de

- (a) desfazer a última ação.
- (b) diminuir recuo.
- (c) voltar à página anterior.
- (d) alinhar à esquerda.
- (e) ativar/desativar marcadores.

37

Em um documento do editor de texto dos pacotes OpenOffice, BrOffice e LibreOffice, com uma instalação padrão, a funcionalidade executada quando a tecla F7 do teclado é pressionada é

- (a) localizar e substituir.
- (b) fórmula.
- (c) ajuda.
- (d) desfazer última ação.
- (e) ortografia e gramática.

38

Considerando os equipamentos abaixo,

- I) mouse
 - II) teclado
 - III) impressora
 - IV) scanner
- (a) Apenas o IV não é dispositivo de entrada.
 - (b) Apenas o III não é dispositivo de entrada.
 - (c) Apenas o I não é dispositivo de entrada.
 - (d) I, II e III, não são dispositivos de entrada.
 - (e) Todos os equipamentos são dispositivos de entrada.

39

No Microsoft Windows XP, usando o programa CMD.EXE, utilizado para a digitação de comandos, para criar e renomear uma pasta, deve-se digitar, respectivamente,

- (a) makedir, rename.
- (b) create, rename.
- (c) mkdir, ren.
- (d) new, rename.
- (e) create, ren.

40

Ao desligar o Microsoft Windows XP, clicando-se em Iniciar, desligar, tem-se uma janela que apresenta três opções:

- (a) Fazer Logoff, Desativar, Reiniciar.
- (b) Hibernar, Desativar, Reiniciar.
- (c) Bloquear, Desativar, Suspende.
- (d) Hibernar, Desativar, Fazer Logoff.
- (e) Trocar usuário, Desativar, Fazer Logoff.